

ATIVIDADES PARA O PERÍODO DE 25/05 À 05/06 - 9ºs anos

Disciplina: Desenho Geométrico

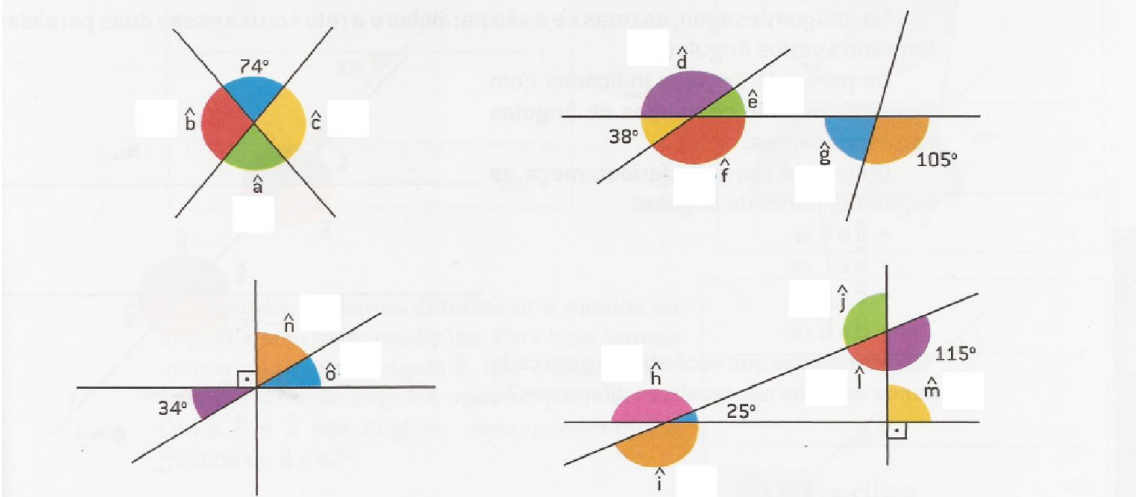
Professora: Msc. Silvânia Costa

Olá! Espero que estejam todos bem! Há a seguir a indicação de novas atividades a serem feitas durante o isolamento social, por conta do novo coronavírus. Bons estudos!

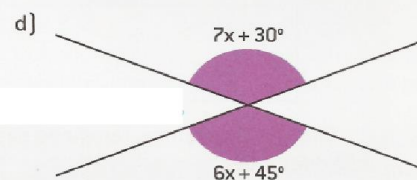
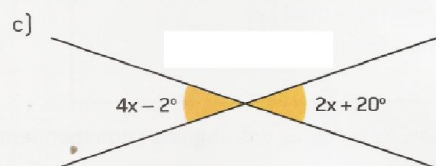
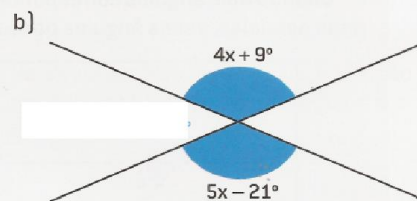
ATIVIDADE

1) Vamos solucionar mais algumas questões sobre ângulos:

1. Sem utilizar transferidor ou outro instrumento, determine a medida de cada um dos ângulos indicados nas figuras.



2. No caderno, efetue os cálculos necessários e determine a medida dos ângulos indicados.



- 2) Continuaremos com a leitura de trechos do livro “O homem que calculava”, acompanhando as aventuras de seu protagonista, Beremiz. Tal livro encontra-se disponível no link abaixo:
https://daffy.ufs.br/uploads/page_attach/path/7767/O_Homem_que_Calculava_-_Malba_Tahan.pdf

Leia os Capítulos 7 e 8, prestando atenção e buscando compreender os raciocínios utilizados.

- 3) Matemática
Quanto você calça tem relação com sua idade?
Siga os passos abaixo:

- 1) Pegue o número do seu calçado
- 2) Multiplique por 5
- 3) Some 50
- 4) Multiplique por 20
- 5) Some 1020
- 6) Subtraia o ano que você nasceu.



Os dois primeiros dígitos correspondem ao número do seu calçado e os dígitos restantes à sua idade?

Observações

- Encontra-se aberto um fórum no SIGAA para que vocês possam tirar dúvidas.
- Ao responder às questões propostas ou fazer as atividades solicitadas postar no instagram, marcando os perfis: Matemática Codap (@matematica.codap), CODAP/UFS (@codapufs) e professora Silvânia (@silvania_scosta).